

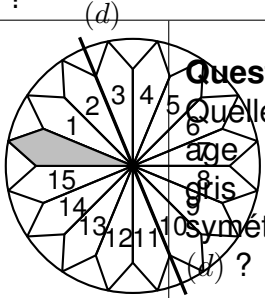
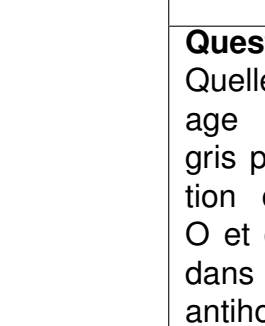
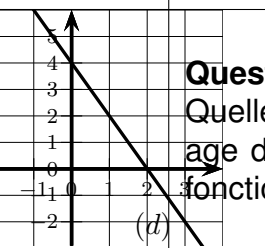

Cet exercice est un questionnaire à choix multiples (QCM).

**Aucune justification n'est demandée.**

Pour chaque question, trois réponses (A, B et C) sont proposées.

**Une seule réponse est exacte.**

Recopier sur la copie le numéro de la question et la réponse choisie.

	Réponse A	Réponse B	Réponse C
<b>Question 1</b> Quelle est l'écriture scientifique de 13,420 ?	$1,342 \times 10^{-4}$	$1,342 \times 10^4$	$1,342 \times 10^1$
<b>Question 2</b> On a relevé, en mètres, les onze meilleures performances du lancer de marteau chez les hommes: 85,14 ; 85,14 ; 85,20 ; 85,60 ; 85,68 ; 85,74 ; 85,74 ; 85,74 ; 86,04 ; 86,34 ; 86,51 ; 86,66 ; 86,74. Quelle est la médiane de cette série ?	85,74	85,86	85,89
 <b>Question 3</b> Quelle est l'image du motif gris par la symétrie d'axe (d) ?	Le motif 8	Le motif 15	Le motif 5
 <b>Question 4</b> Quelle est l'image du motif gris par la rotation de centre O et d'angle 90 dans le sens antihoraire ?	Le motif 4	Le motif 12	Le motif 13
 <b>Question 5</b> Quelle est l'image de 2 par la fonction f ?	0	1	4
 <b>Question 6</b> Quel est le coefficient directeur de la droite (d) ?	2	-0,5	-2