

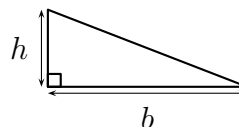
Pour son confort, Lisa souhaite installer une voile d'ombrage triangulaire dans son jardin.

L'aire de celle-ci doit être de 8 m^2 au minimum.

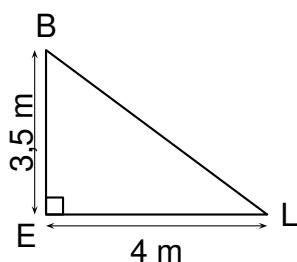
Pour chacun des trois modèles suivants indiquer sur la copie s'il convient en justifiant chaque réponse.

Rappel

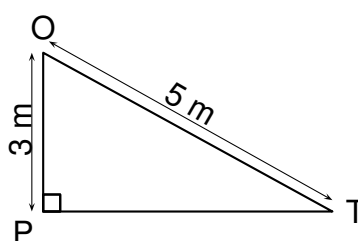
Aire d'un triangle rectangle : $A = \frac{h \times b}{2}$



Modèle 1



Modèle 2



Modèle 3

