



1. On souhaite tracer le motif ci-dessous en forme de losange.

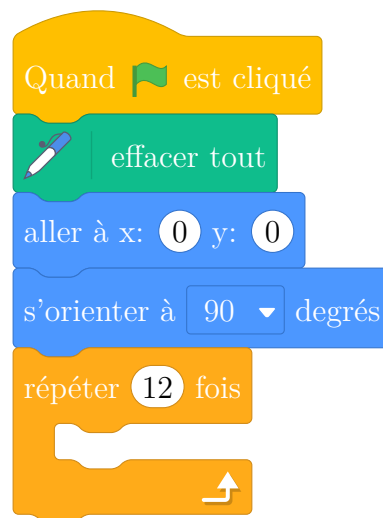
Le motif <b>Losange</b>	Le bloc <b>Losange</b>
	<pre> définir Losange stylo en position d'écriture avancer de  tourner de 30 degrés avancer de  tourner de 150 degrés avancer de  tourner de  degrés avancer de  tourner de  degrés relever le stylo                     </pre>



2. On souhaite réaliser la figure ci-dessous construite à partir du bloc **Losange** complété à la question 1.




On rappelle que l'instruction  signifie que l'on se dirige vers la droite.

Parmi les instructions ci-dessous, indiquer sur votre copie, dans l'ordre, les deux instructions à placer dans la boucle ci-contre pour finir le script.



①	
③	

②	
④	