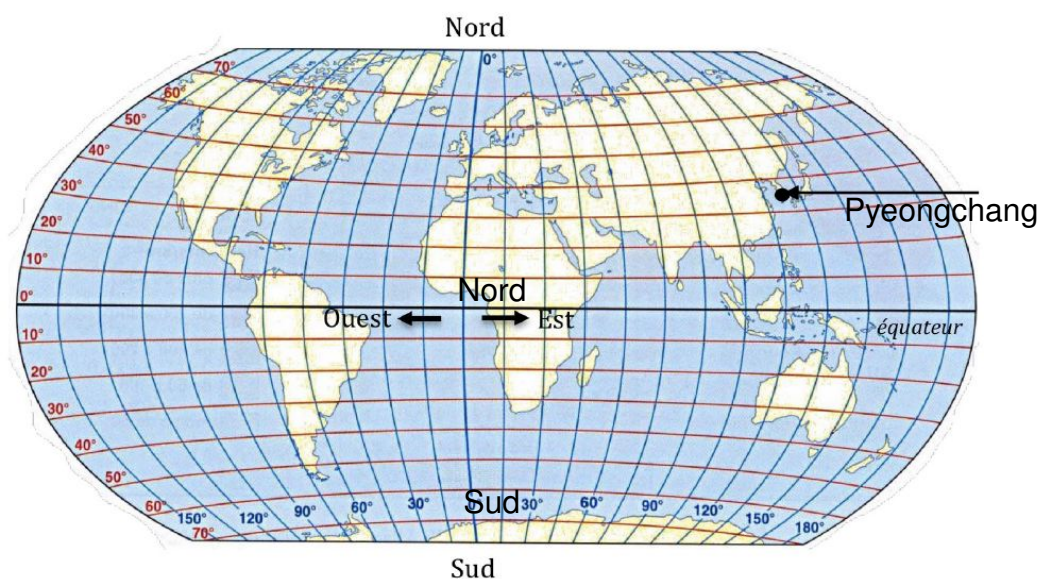
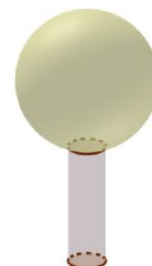


Le gros globe de cristal est un trophée attribué au vainqueur de la coupe du monde de ski.
Ce trophée pèse 9 kg et mesure 46 cm de hauteur.

1. Le biathlète français Martin Fourcade a remporté le sixième gros globe de cristal de sa carrière en 2017 à Pyeongchang en Corée du Sud.

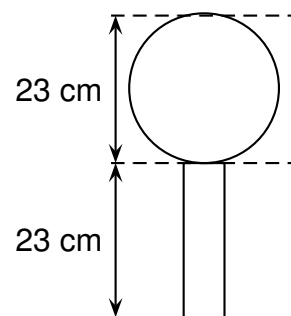
Donner approximativement la latitude et la longitude de ce lieu repéré sur la carte ci-dessous.



2. On considère que ce globe est composé d'un cylindre en cristal de diamètre 6cm, surmonté d'une boule de cristal. Voir schéma ci-contre. Montrer qu'une valeur approchée du volume de la boule de ce trophée est de $6,371 \text{ cm}^3$.

3. Marie affirme que le volume de la boule de cristal représente environ 90 % du volume total du trophée.

A-t-elle raison ?



Rappels :

volume d'une boule de rayon R : $V = \frac{4}{3}\pi R^3$

volume d'un cylindre de rayon r et de hauteur h : $V = \pi r^2 h$.