

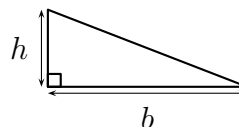
Pour son confort, Lisa souhaite installer une voile d'ombrage triangulaire dans son jardin.

L'aire de celle-ci doit être de  $8 \text{ m}^2$  au minimum.

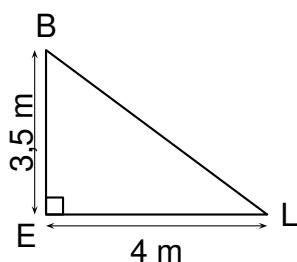
Pour chacun des trois modèles suivants indiquer sur la copie s'il convient en justifiant chaque réponse.

## Rappel

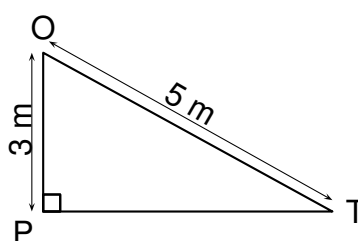
Aire d'un triangle rectangle :  $A = \frac{h \times b}{2}$



### Modèle 1



### Modèle 2



### Modèle 3

