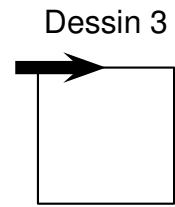
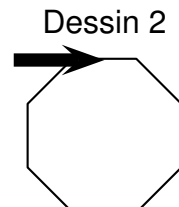
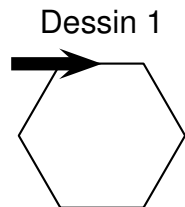
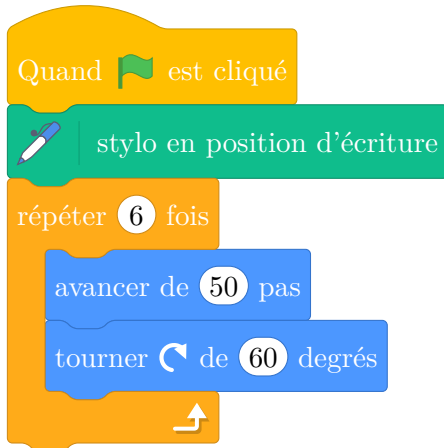
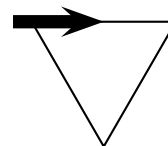


Dans les figures de cet exercice la flèche indique la position et l'orientation du lutin au départ.

- Indiquer sur la copie le numéro du dessin correspondant au script ci-dessous.



- Sur le script ci-dessous, compléter les deux informations manquantes du script qui permet de réaliser la figure ci-dessous.



- En ordonnant les instructions proposées ci-dessous, compléter le script permettant de réaliser la figure ci-dessous. On indiquera les numéros des instructions sur sa copie.

Pour ce script on a créé la variable **longueur**.

Compléter en mettant les numéros à leur place.

