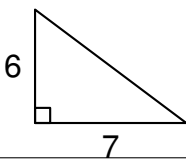
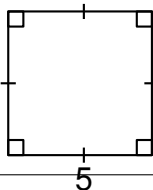
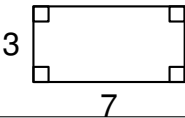


Cet exercice est un questionnaire à choix multiples (QCM). Pour chaque question, une seule des trois réponses proposées est exacte. Sur la copie, indiquer le numéro de la question et la réponse A, S ou C choisie.

Aucune justification n'est demandée.

Aucun point ne sera enlevé en cas de mauvaise réponse.

25cmQuestions posées	Réponses proposées		
	A	B	C
Quelle figure a la plus grande aire ? <i>Les longueurs données sont en centimètres.</i>			
Une page de roman se lit en moyenne en 1 minute 15 secondes. Quel temps de lecture faudrait-il pour un roman de 290 pages ?	Environ 5 heures	Environ 6 heures	Environ 7 heures
La masse de la planète Neptune est de l'ordre de :	10^{-15} kg	10^4 kg	10^{26} kg
$(2x + 3)(2x - 3) =$	$2x^2 - 9$	$4x^2 - 12x + 9$	$4x^2 - 9$